

Paper Code : **B-1**

Roll No. :

अनुक्रमांक :

--	--	--	--	--	--	--	--

Question Booklet Code

C

Roll No. (in words)

अनुक्रमांक (शब्दों में)

Signature of Invigilator :

कक्ष निरीक्षक के हस्ताक्षर :

Serial No.

B-1

1. Language Test (भाषा परीक्षण) : Hindi or English (हिन्दी अथवा अंग्रेजी)

2. General Knowledge and Reasoning (सामान्य ज्ञान तथा तार्किकता)

3. Teaching Aptitude (शिक्षण अभिक्षमता)

Time : 2.00 hrs.]

[Maximum Marks : 150

जब तक कहा न जाये, प्रश्न पुस्तिका न खोलें

परीक्षार्थियों के लिए निर्देश

1. इस प्रश्न-पत्र में 150 प्रश्न हैं। प्रश्न संख्या 1 से 50 तक के प्रश्न भाषा परीक्षण (हिन्दी अथवा अंग्रेजी) से सम्बन्धित हैं। परीक्षार्थी को हिन्दी अथवा अंग्रेजी भाषा के प्रश्नों को हल करना है। प्रश्न संख्या 51 से 100 सामान्य ज्ञान तथा तार्किकता से सम्बन्धित हैं जबकि प्रश्न संख्या 101 से 150 तक शिक्षण-अभिक्षमता से सम्बन्धित हैं। प्रश्न संख्या 51 से 150 तक सभी परीक्षार्थियों के लिए अनिवार्य हैं। प्रत्येक प्रश्न एक अंक का है।
2. उत्तर पत्रक पूर्णतः ओ.एम.आर. पर आधारित है, जिसे कम्प्यूटर स्कैनर के माध्यम से संसाधित किया जाएगा। अपूर्ण अथवा गलत तरीके से भरा गया उत्तर पत्रक अमान्य होगा तथा इसका उत्तरदायित्व पूर्णतया अभ्यर्थी का होगा।
3. ओ.एम.आर. उत्तर पत्रक में अपना अनुक्रमांक (अंग्रेजी अंकों में), पेपर कोड, अपना वर्ग (कला, विज्ञान अथवा वाणिज्य), प्रश्न पुस्तिका कोड तथा हस्ताक्षर सावधानीपूर्वक भरें व लिखें, अन्यथा कम्प्यूटर स्कैनर सही मूल्यांकन नहीं कर पायेगा। ओ.एम.आर. उत्तर पत्रक की गलतियों का पूर्ण उत्तरदायित्व अभ्यर्थी का होगा।
4. अपने उत्तर अंकित करने के लिए नीले या काले बाल प्वाइंट पैन का ही प्रयोग करें। किसी भी दशा में दूसरी प्रश्न पुस्तिका अथवा उत्तर पत्रक नहीं दिया जायेगा।
5. परीक्षा कक्ष छोड़ने से पहले उत्तर पत्रक की दो प्रतियाँ कक्ष निरीक्षक को लौटाये अन्यथा आपका अभ्यर्थन निरस्त कर दिया जायेगा।
6. आपको अलग से उपलब्ध करायी जा रही ओ.एम.आर. शीट तीन प्रतियों में कार्बन विहीन है। आप तीसरी प्रति को निकालकर अपने साथ ले जायें ताकि आप विश्वविद्यालय द्वारा विश्वविद्यालय वेबसाइट में प्रकाशित कुंजी से अपने उत्तरों का मिलान कर सकें। प्रथम प्रति स्कैन की जायेगी तथा द्वितीय प्रति विश्वविद्यालय रिकार्ड हेतु रखी जायेगी।
7. प्रत्येक प्रश्न में दिये गये चार विकल्पों में से सही विकल्प चुनकर उत्तर चार्ट में उसी प्रश्न संख्या के सामने बने चार गोलों में से उचित गोले को ओ.एम.आर. शीट में पूरा भर दें।
8. उत्तर अंकित करने के लिए गोला भरने का उचित तरीका निम्नवत है :



9. उत्तर में फेरबदल किया जाना वर्जित है। एक प्रश्न के लिए एक से अधिक उत्तर अंकित करने पर आपका उत्तर गलत माना जायेगा। प्रत्येक प्रश्न का केवल एक ही उत्तर अंकित किया जाना है।

ENGLISH VERSION OF THE INSTRUCTIONS IS PRINTED ON THE LAST PAGE

Language Test / भाषा परीक्षण

Hindi Language / हिन्दी भाषा

निर्देश — हिन्दी भाषा के निम्न प्रश्नों में चार विकल्प उत्तर के रूप में दिए गए हैं, कोई एक विकल्प उस प्रश्न का सही उत्तर है। कृपया सही विकल्प का चयन कीजिए।

1. 'तारसप्तक' में कुल कितने कवियों की रचनाएँ संकलित हैं :
 - (A) सात
 - (B) नौ
 - (C) ग्यारह
 - (D) तेरह
2. "परीक्षा गुरु" उपन्यास के लेखक का नाम ?
 - (A) पं. गौरी दत्त
 - (B) किशोरी लाल गोस्वामी
 - (C) लाला श्रीनिवास दास
 - (D) वृंदावन लाल वर्मा
3. उपन्यास "निस्सहाय हिन्दू" के रचनाकार का नाम क्या है ?
 - (A) रामकृष्ण दास
 - (B) राधाकृष्ण दास
 - (C) विष्णु प्रभाकर
 - (D) मुंशी प्रेमचन्द
4. मुंशी प्रेमचन्द की किस कहानी के प्रमुख पात्रों के नाम "घीसू" एवं "माधव" हैं :
 - (A) बूढ़ी काकी
 - (B) शतरंज के खिलाड़ी
 - (C) हार की जीत
 - (D) कफ़न
5. कहानी "गुण्डा" के लेखक का नाम क्या है ?
 - (A) जयशंकर प्रसाद
 - (B) मुंशी प्रेमचन्द
 - (C) भगवती चरण वर्मा
 - (D) महादेवी वर्मा

6. "अपना-अपना जूता" नाटक के लेखक कौन हैं ?

- (A) लक्ष्मीकान्त वर्मा
- (B) शम्भूनाथ सिंह
- (C) वृंदावन लाल वर्मा
- (D) महादेवी वर्मा

7. 'ताजमहल के आँसू', 'नाटक बहुरंगी' एकांकी के लेखक का नाम है :

- (A) डॉ. रामकुमार वर्मा
- (B) धर्मवीर भारती
- (C) विष्णु प्रभाकर
- (D) लक्ष्मी नारायण लाल

8. "शिवशम्भू के चिट्ठे" के लेखक हैं ?

- (A) बालकृष्ण भट्ट
- (B) बालमुकुन्द गुप्त
- (C) गोपाल प्रसाद व्यास
- (D) बाबू श्यामसुन्दर दास

9. निबन्ध 'ठेले पर हिमालय' के लेखक कौन हैं ?

- (A) देवेन्द्र सत्यार्थी
- (B) हरिशंकर परसाई
- (C) धर्मवीर भारती
- (D) श्रीलाल शुक्ल

10. "मार्क्सवादी आलोचक" नहीं हैं, निम्न में उस साहित्यकार का नाम छांटिए :

- (A) शिवदान सिंह चौहान
- (B) रामविलास शर्मा
- (C) शान्तिप्रिय द्विवेदी
- (D) नामवर सिंह

11. "आवारा मसीहा" में किसकी जीवनी है ?

- (A) शरतचन्द्र
- (B) रामचन्द्र वर्मा
- (C) स्वामी सत्यानन्द
- (D) अमृतलाल नागर

12. "क्रान्तिपथ का पथिक" आत्मकथा के लेखक का नाम है :

- (A) बाबा पृथ्वी सिंह 'आजाद'
- (B) वृंदावन लाल वर्मा
- (C) आबिद अली
- (D) सेठ गोविन्द दास

13. पत्रिका "पाखी" किस स्थान से प्रकाशित की जाती है ?

- (A) मुम्बई
- (B) प्रयागराज
- (C) नोएडा
- (D) दिल्ली

14. सर्वप्रथम देवनागरी लिपि का प्रयोग किया गया था :

- (A) पांचवी-छठी शताब्दी में
- (B) नौवीं-दसवीं शताब्दी में
- (C) सातवीं-आठवीं शताब्दी में
- (D) ग्याहरवीं-बारहवीं शताब्दी में

15. भारतीय संविधान के किस अनुच्छेद में यह कहा गया है—"संघ की राजभाषा हिन्दी होगी" ?

- (A) अनु. 210
- (B) अनु. 243
- (C) अनु. 341
- (D) अनु. 343

16. वर्ष 2021 में हिन्दी साहित्य के लिए किस लेखक को "साहित्य अकादमी पुरस्कार" प्रदान किया गया है :

- (A) दया प्रकाश सिन्हा
- (B) गिरिजा कुमार माथुर
- (C) सर्वेश्वर दयाल सक्सेना
- (D) रमेश चन्द्र शाह

17. "वाक्यं रसात्मकं काव्यम्" किसका कथन है ?

- (A) आचार्य निम्बकाचार्य
- (B) आचार्य चाणक्य
- (C) आचार्य विश्वनाथ
- (D) आचार्य भरतमुनि

18. "नाट्य शास्त्र" के रचियता है ?

- (A) भृगु ऋषि
- (B) भरतमुनि
- (C) श्रंग ऋषि
- (D) भोजराज

19. 'अनुकरण' एवं 'विरेचन' सिद्धांत के प्रवर्तक हैं ?

- (A) प्लेटो
- (B) अरस्तु
- (C) विलियम बुड वर्थ
- (D) मैथ्यू आर्नल्ड

20. नीचे दिए गए हिन्दी भाषा के "तालव्य व्यंजन"

छांटिए :

- (A) च, छ, ज, झ
- (B) ट, ठ, ड, ढ
- (C) त, थ, द, ध
- (D) प, फ, ब, भ

21. निम्न में अघोष वर्ण कौन सा है :

- (A) अ
- (B) स
- (C) ह
- (D) ज

22. हिन्दी भाषा में लिंग की दृष्टि से "दही" शब्द है :

- (A) पुल्लिंग
- (B) स्त्रीलिंग
- (C) नपुंसकलिंग
- (D) इनमें से कोई नहीं

23. "किताब" शब्द किस भाषा का शब्द है ?

- (A) अरबी
- (B) फारसी
- (C) लैटिन
- (D) चीनी

24. निम्नांकित में "बादल" का पर्यायवाची शब्द नहीं है :

- (A) मेघ
- (B) जलद
- (C) जलधि
- (D) वारिधर

25. जो शब्द "तरु" का पर्यायवाची शब्द नहीं है, वह शब्द निम्न में से छांटिए :

- (A) विटप
- (B) तड़ाग
- (C) पादप
- (D) द्रुम

26. 'अर्वाचीन' शब्द का विलोम शब्द निम्न में से छांटिए :

- (A) समकालीन
- (B) प्राचीन
- (C) आधुनिक
- (D) नूतन

27. नीचे दिए गए शब्दों में से "वह स्त्री जिसका पति परदेश से आने वाला हो" के लिए एक शब्द छांटिए :

- (A) आगमिस्यतपतिका
- (B) आगतपतिका
- (C) प्रोषितपतिका
- (D) प्रवत्स्यतपतिका

28. नीचे दिए गए शब्दों में से तत्सम शब्द का चयन कीजिए :

- (A) सींग
- (B) दरसन
- (C) विवाह
- (D) छेद

29. "पवन" में कौन सी सन्धि है ?

- (A) यण
- (B) गुण
- (C) दीर्घ
- (D) अयादि

30. नीचे दिए गए शब्दों में से वर्तनी की दृष्टि से शुद्ध

शब्द छांटिएँ :

- (A) अनुग्रहीत
- (B) अनुगृहीत
- (C) अनुग्रहित
- (D) अनुगृहित

31. हिन्दी साहित्य में काल विभाजन एवं उसका नामकरण का प्रयास सर्वप्रथम किसने किया ?

- (A) गार्सा द तासी
- (B) जार्ज ग्रियर्सन
- (C) शिव सिंह सेंगर
- (D) हजारी प्रसाद द्विवेदी

32. आदिकाल को 'आदिकाल' नाम किस विद्वान ने दिया ?

- (A) डॉ. भगीरथ मिश्र
- (B) महावीर प्रसाद द्विवेदी
- (C) हजारी प्रसाद द्विवेदी
- (D) विश्वनाथ प्रसाद मिश्र

33. सिद्धों की भाषा है :

- (A) सधुक्कणी
- (B) अपभ्रंश
- (C) संध्या
- (D) ब्रज

34. नाथ सम्प्रदाय को मानने वाले मूलतः किसकी उपासना करते हैं ?

- (A) शिव भगवान
- (B) विष्णु भगवान
- (C) माँ दुर्गा
- (D) शून्य

35. निम्नलिखित में कौन सुमेलित नहीं है ?

- (A) द्वैतवाद—माध्वाचार्य
- (B) द्वैताद्वैतवाद—रामानुजाचार्य
- (C) अद्वैतवाद—शंकराचार्य
- (D) शुद्धाद्वैतवाद—बल्लभाचार्य

36. मीराबाई के गुरु का नाम क्या है ?

- (A) रामानन्द जी
- (B) सन्त रविदास या रैदास
- (C) बल्लभाचार्य जी
- (D) सन्त तुकाराम

37. 'रामचरित मानस' का प्रधान रस है ?

- (A) शान्त रस
- (B) शृंगार रस
- (C) वीर रस
- (D) रौद्र रस

38. निम्न में से कौन से रीतिकालीन कवि वीर रस के लिए प्रसिद्ध है ?

- (A) भूषण
- (B) चिन्तामणि
- (C) मतिराम
- (D) देव

39. रीतिकाल को अलंकृत काल किस विद्वान ने कहा है ?

- (A) मिश्र बन्धु
- (B) हजारी प्रसाद द्विवेदी
- (C) रमाशंकर शुक्ल 'रसाल'
- (D) महावीर प्रसाद द्विवेदी

40. बिहारी किस धारा के कवि हैं ?

- (A) रीति मुक्त
- (B) रीति बद्ध
- (C) रीति सिद्ध
- (D) स्वच्छन्द

41. "भीतर-भीतर सब रस चूसै ।

हँसि-हँसि कै तन-मन-धन मूसै ।"

किस कवि की काव्य पंक्तियाँ हैं ?

- (A) बालकृष्ण भट्ट
- (B) राधाकृष्ण दास
- (C) प्रतापनारायण मिश्र
- (D) भारतेन्दु हरिश्चन्द्र

42. खड़ी बोली का प्रथम महाकाव्य है :

- (A) साकेत
- (B) स्वर्गीय वीणा
- (C) भारत भारती
- (D) प्रिय प्रवास

43. 'इतिवृत्तात्मकता' किस युग की प्रमुख विशेषता है ?

- (A) छायावाद युग
- (B) द्विवेदी युग
- (C) भारतेन्दु युग
- (D) प्रगतिवाद युग

44. श्री जयशंकर प्रसाद कृत 'कामायनी' में कुल कितने सर्ग हैं ?

- (A) 12 सर्ग
- (B) 15 सर्ग
- (C) 17 सर्ग
- (D) 19 सर्ग

45. श्री सुमित्रानन्दन पन्त को किस काव्य कृति पर 'ज्ञानपीठ' पुरस्कार दिया गया ?

- (A) चिदम्बरा
- (B) पल्लव
- (C) गुंजन
- (D) वीणा

46. 'हालावाद' के प्रवर्तक माने जाते हैं ?

- (A) भगवती चरण वर्मा
- (B) मैथिलीशरण गुप्त
- (C) हरिवंश राय बच्चन
- (D) माखन लाल चतुर्वेदी

47. 'पुष्प की अभिलाषा' किस कवि की कविता है :

- (A) सियारामशरण गुप्त
- (B) भगवतीचरण वर्मा
- (C) रामधारी सिंह दिनकर
- (D) माखन लाल चतुर्वेदी

48. प्रसिद्ध कविता—

“श्वानों को मिलता दूध वस्त्र, भूखे बालक अकुलाते हैं
माँ की हड्डी से चिपक ठिठुर जाड़ों की रात
बिताते हैं।”

के रचियता कवि का नाम है :

- (A) रामधारी सिंह दिनकर
- (B) भगवतीचरण वर्मा
- (C) माखन लाल चतुर्वेदी
- (D) रामेश्वर शुक्ल 'अंचल'

49. “प्रगतिशील लेखक संघ” की प्रथम अध्यक्षता किस महानुभाव ने की ?

- (A) मुंशी प्रेमचन्द
- (B) रविन्द्रनाथ ठाकुर
- (C) जयशंकर प्रसाद
- (D) हरिवंश राय बच्चन

50. नागार्जुन को किस काव्यकृति के लिए 'अकादमी साहित्य पुरस्कार' प्रदान किया गया था ?

- (A) राम के प्रति
- (B) फूल नहीं रंग बोलते हैं
- (C) पत्रहीन नग्न गाछ
- (D) चित्रा

Language Test / भाषा परीक्षण
English Language / अंग्रेजी भाषा

Direction (Q. No. 1 to 50) : Each question has four alternatives out of these four alternative only one alternative in correct answer. Select the correct one.

1. Select the correct sentence from the sentences given below :

- (A) Everyone agrees that the Ganga is the holiest of all the rivers
- (B) Everyone agrees that the Ganga is the holiest of all other rivers
- (C) Everyone agrees that the Ganga is holy of all other rivers
- (D) None of the above

2. Select the correct sentence from the sentences given below :

- (A) Some people have generously contributed to the welfare fund but they wanted that there names should not be published
- (B) Some people have generously contributed to the welfare fund but they wanted that their names should not be published
- (C) Some people has generously contributed to the welfare fund but they wanted that their names should not be published
- (D) None of the above

3. Select the correct sentence from the sentences given below :

- (A) We were happy that the audience responded well and gave all the speakers a patiently listening
- (B) We were happy that the audience responded well and gave all the speakers a patient listening
- (C) We were happy that the audience respond well and gave all the speakers listening patiently
- (D) None of the above

4. Select the correct sentence from the sentences given below :

- (A) He saw two men, the one was lame and another was blind
- (B) He saw two man, the one was lame and other was blind
- (C) He saw two man, the one was lame and another blind
- (D) He saw two men, the one was lame and the other was blind

5. Select the correct sentence from the sentences given below :

- (A) If Rani had worked hard she will have got the job she desired
- (B) If Rani had worked hard she would have got the job she desired
- (C) If Rani has worked hard she would have got the job she desired
- (D) None of the above

6. Select the correct sentence from the sentences given below :

- (A) As I am suffering from fever since morning, I shall not be able to attend the college duties today
- (B) As I have been suffering from fever since morning. I shall not be able to attend the college duties today
- (C) As I am suffering from fever from morning. I will not be able to attend the college duties today
- (D) None of the above

7. Select the correct sentence from the sentences given below :

- (A) Mohini appealed to the managing committee that she might be allowed to join the college
- (B) Mohini appealed to the managing committee that she may be allowed to join the college
- (C) Mohini appealed to the managing committee that she be allowed to join the college
- (D) None of the above

8. Select the correct sentence from the sentences given below :

- (A) As soon as the principal entered the school all the students approached him and report the matter.
- (B) As soon as the principal entered in the school all the students approached him and report the matter
- (C) As soon as the principal entered the school all the students approached him and had reported the matter
- (D) None of the above

9. Select the correct sentence from the sentences given below :

- (A) He asked me whether I knew who had stolen my book
- (B) He asked the whether I know who had stolen his book
- (C) He asked me whether I know who had stolen my book
- (D) He asked me whether I know who stolen his book

10. Select the correct sentence from the sentences given below :

- (A) The lawyer asked me where had I left my clothes before taking a dip in holy river Ganga
- (B) The lawyer asked me where I had left my clothes before taking a dip in holy river Ganga
- (C) The lawyer asks me where has I leave my clothes before taking a dip in holy river Ganga
- (D) None of the above

11. Select the correct sentence from the sentences given below :

- (A) I advised him to work sincerely if you wanted to succeed
- (B) I advice him to work sencerely if he wanted to success
- (C) I adviced him to work sincerely if you wanted to success
- (D) I advised him to work sincerely if he wanted to succeed

12. Select the correct sentence from the sentences given below :

- (A) It believed that Manohar Babu was very rich in the town.
- (B) It believed that Manohar Babu is very rich in the town.
- (C) It was believed that Manohar Babu is very rich in the town.
- (D) It was believed that Manohar Babu was very rich in the town

13. Select the correct sentence from the sentences given below :

- (A) The work on project could not take up as the State Government did not provide fund
- (B) The work on the project could not be taken up as the State Government did not provide fund
- (C) The work on the project was not take up as the State Government did not provide fund
- (D) None of the above

14. Select the correct sentence from the sentences given below :

- (A) While going through the report yesterday I found several factual mistakes
- (B) While going through the report yesterday I founded several factual mistakes.
- (C) While going through the report yesterday I had find several factual mistakes
- (D) While going through the report yesterday I had founded several factual mistake

15. Select the correct sentence from the sentences given below :

- (A) He laid unconscious for an hour untill he was seen by a doctor
- (B) He was laid unconscious for a hour until he was seen by a doctor
- (C) He lay unconscious for an hour until he was seen by a doctor
- (D) He layed unconscious for an hour until he was seen by a doctor

16. Select the correct sentence from the sentences given below :

- (A) Monika read the message but she cannot understand it
- (B) Monika read the message but she could not understand it
- (C) Monika read the message but she can not understood it
- (D) Monika read the message but she was not understood it

17. Select the correct sentence from the sentences given below :

- (A) If a developing country is to become a developed country it will attract foreign investors
- (B) If a developing country is to become a developed country it has to attract foreign investors
- (C) If a developing country will become a developed country it has to attract foreign investors
- (D) None of the above

18. Select the correct sentence from the sentences given below :

- (A) Your scooter would not have given you so much trouble if you had maintained it properly
- (B) Your scooter would not have been give you so much trouble if you had maintain it properly
- (C) Your scooter would not have given you so much trouble if you had maintain it proper
- (D) None of the above

19. Select the correct one :

- (A) Parth has been writing that essay for two hours but he still has not finished
- (B) Parth have been writing that essay for two hours but he still have not finished
- (C) Parth has been writing that essay for two hours but he has not finished yet
- (D) Parth has been writing that essay for two hours but still has not finished yet

20. Select the correct sentence from the sentences given below :

- (A) The meeting scheduled to be held between 2 P.M. and 3 P.M. was postponed suddenly
- (B) The meeting scheduled to held between 2 P.M. and 3 P.M. is postponed suddenly
- (C) The meeting scheduled to be held between 2 P.M. to 3 P.M. was postponed suddenly
- (D) None of the above

21. Select the correct sentence from the sentences given below :

- (A) Thank you for your invitation for lunch which I am very pleased to accept
- (B) Thank you for your invitation to lunch which I am very pleased to accept
- (C) Thank you for your inviting for Lunch which I was very pleased to accept
- (D) None of the above

22. Select the correct sentence :

- (A) Ghanshyam had gone away after I reached there
- (B) Ghanshyam had gone away before I reached there
- (C) Ghanshyam has gone away after I was reached there
- (D) Ghanshyam has gone away before I reached there

23. Select the correct sentence from the sentences given below :

- (A) Hearing the noise my daughter woke up
- (B) Heard the noise my daughter woke up
- (C) Hearing the noise my daughter wake up
- (D) Heard the noise my daughter wake up

24. Select the correct sentence from the sentences given below :

- (A) Having tying one end of the rope to his bed, he threw the other end out of the window
- (B) Having tied one end of the rope to his bed, he throw the other end out of the window
- (C) Having tied one end of the rope to his bed, he threw the other end out of the window
- (D) None of the above

25. Select synonyms of the word “Blasphemous”

from the words given below :

- (A) Betray
- (B) Irreligious
- (C) Borrow
- (D) Invasion

26. Select synonyms of the word “Flourish” from

the words given below :

- (A) Develop
- (B) Dearth
- (C) Fragile
- (D) Depreciate

27. Select antonyms of the word “Capacious”

from the words given below :

- (A) Naughty
- (B) Nuisance
- (C) Noble
- (D) Narrow

28. Select antonyms of the word “Zenith” from

the words given below :

- (A) Vertex
- (B) Climax
- (C) Bottom
- (D) Optimum

29. Choose the correct spelt word from the words

given below :

- (A) Spritual
- (B) Spirituale
- (C) Spiritual
- (D) Spiritul

30. Choose the correct spelt word from the words

given below :

- (A) Lackadaisical
- (B) Lackaidisical
- (C) Lackadisicole
- (D) Lackadisicle

31. The Abstract Noun of the word “Modest” is :

- (A) Modesti
- (B) Modesty
- (C) Modest
- (D) Morality

32. Complete the sentence

“Succeed is to success as advise is to”

- (A) Advice
- (B) Advised
- (C) Adviced
- (D) Advose

33. Select the Adjective form of the noun “Wood”

from following :

- (A) Woods
- (B) Wooden
- (C) Woody
- (D) Woodes

34. Find out the error part of the following sentence :

A stock of lectures on this topic will be fruitful

- (A) (B) (C)

to the students

- (D)

35. Select the correct sentence from the following sentences :

- (A) Several thesises were presented but none were good
- (B) Several theses were presented but none were good
- (C) Several thesis were presented but none were good
- (D) Several thesis was presented but none was good

36. Select the plural form of the sentence—“The goose is swimming in the pond.” from following sentences :

- (A) The geese is swimming in the pond
- (B) The geese are swimming in the pond
- (C) The goose swimming in the pond
- (D) The geese swimming in the pond

37. Find the error part of the following sentence :

The Indian team defeated the Australian

(A) (B) (C)

by an inning

(D)

38. Select the correct sentence from the following sentences :

- (A) Radha met a widow and helped him
- (B) Radha met a widow and helped her
- (C) Radha met a widower and helped her
- (D) Radha met a widows and helped him

39. Select the correct sentence from the following sentences :

- (A) Mohan's car is better than Sohan's
- (B) Mohan's car is better than Sohan
- (C) Mohan car is better than Sohan's
- (D) None of these

40. Find out the error part of the following sentence :

Every teacher is expected to carry out

(A) (B) (C)

his principal orders

(D)

41. Select the correct sentence from these sentences :

- (A) A house divided against itselfs cannot stand
- (B) A house divided against itself cannot stand
- (C) A house divided against it cannot stand
- (D) None of the above

42. Select correct sentence from following sentences :

- (A) Both girls are bold but this is bolder than that
- (B) Both girls are bold but this is bolder than those
- (C) Both girls are bold but these are bolder than those
- (D) Both girls are bolder but these are bold than those

43. Select the correct sentence from following sentences :

(A) The roads of Rambagh are wider than those of Shashtri Nagar

(B) The roads of Rambagh are wider than Shastri Nagar

(C) The roads of Rambagh are wide than Shastri Nagar

(D) The roads of Rambagh are wide than those of Shashtri Nagar

44. Select the correct sentence from the following sentences :

(A) One must not be blind to his own defects

(B) One must not blind to his own defect

(C) One must not be blind to one's own defects

(D) One must not blind to one's own defects

45. Select the correct sentence from the following sentences :

(A) Anyone can do this if he tries

(B) Anyone can does this if he try

(C) Anyone can do this if he try

(D) Anyone can do this if one's tries

46. Select the correct sentence from the following sentences :

(A) The man who they thought to be a gentleman is a rogue

(B) The man whom they think be a gentleman is a rogue

(C) The man who they thought be a gentleman is a rogue

(D) The man whom they thought to be a gentleman is a rogue

47. Select the correct sentence from the given sentences :

- (A) There is no man who knows these things
- (B) There is no man which know these things
- (C) There is no man but knows these things
- (D) There is no man who know these things

48. Select the correct sentence from the sentences given below :

- (A) The Director of Directorate of Higher Education has given its consent to join the college
- (B) The Director of Directorate of Higher Education has given his consent to join the college
- (C) The Directors of Directorate of Higher Education has given it's consent to join the college
- (D) The Director of Directorate of Higher Education has give his consent to join the college

49. Identify the correct sentence :

- (A) As a teacher of English you are far better than him
- (B) As a teacher of English you are far better than he
- (C) As a teacher of English you are far better then him
- (D) As a teacher of English you are far better then he

50. Select the correct sentence from given sentences :

- (A) Both the sisters have not passed
- (B) Both the sister's have not passed
- (C) Neither sister have passed
- (D) Neither sister has passed

General Knowledge And Reasoning Items

सामान्य ज्ञान एवं तार्किकता

51. Some birds are sitting on two branches A and B of a tree. If one bird flies from A to B branch, the numbers of birds on both branches will be equal. But, if a bird flies from B to A branch, then number on A will thrice that of B. How number of birds was initially on branch A ?

- (A) 3
- (B) 4
- (C) 5
- (D) 7

52. If sign \div and $+$, and numbers 2 and 4 are interchanged, then which of the following is correct ?

- (A) $2 + 4 \div 3 = 3.0$
- (B) $4 + 2 \div 6 = 1.5$
- (C) $4 \div 2 + 3 = 4.0$
- (D) $2 + 4 \div 6 = 8.0$

51. एक पेड़ की दो शाखाओं A और B पर कुछ चिड़ियाँ बैठी हैं। यदि एक चिड़िया A से B शाखा पर उड़कर जाती है तो दोनों शाखाओं पर चिड़ियों की संख्या समान हो जाती है। परन्तु, यदि एक चिड़िया B से A शाखा पर उड़कर आ जाती है, तब A पर B की तिगुनी संख्या हो जाती है। प्रारंभ में A शाखा पर चिड़ियों की संख्या कितनी थी ?

- (A) 3
- (B) 4
- (C) 5
- (D) 7

52. यदि चिन्ह \div और $+$ तथा संख्या 2 और 4 को आपस में बदल दें, तो निम्न में कौन सा सही है ?

- (A) $2 + 4 \div 3 = 3.0$
- (B) $4 + 2 \div 6 = 1.5$
- (C) $4 \div 2 + 3 = 4.0$
- (D) $2 + 4 \div 6 = 8.0$

53. Fill in the blank space :

7, 8, 17, 42, 91,, 293, 462

(A) 172

(B) 182

(C) 208

(D) 192

54. Find out the pair which is different from others :

(A) Pen and Pencil

(B) Cycle and Scooter

(C) Kurta and Tailor

(D) Tea and Coffee

55. If $A = 2$, $B = 3$, $C = 4$, $D = 5$ and so on, what does the following number stand for

14, 2, 11, 16, 19

(A) M B K O R

(B) N A J O R

(C) M A J O R

(D) None of the above

53. रिक्त स्थान की पूर्ति करें :

7, 8, 17, 42, 91,, 293, 462

(A) 172

(B) 182

(C) 208

(D) 192

54. दूसरों से भिन्न जोड़े को ज्ञात कीजिए :

(A) कलम और पेंसिल

(B) साईकिल और स्कूटर

(C) कुर्ता और दर्जी

(D) चाय और काफी

55. यदि $A = 2$, $B = 3$, $C = 4$, $D = 5$ इसी तरह से हो तो निम्नलिखित संख्याएं क्या दर्शाती हैं ?

14, 2, 11, 16, 19

(A) M B K O R

(B) N A J O R

(C) M A J O R

(D) उपरोक्त में कोई नहीं

56. Identify the letter which is the fifth letter to the right of the letter which stands middle between the letter J and P :

- (A) Q
- (B) R
- (C) S
- (D) O

57. A man walks 3 meters east and then 3 meter south, followed by 3 meters east, 4 meters north and 6 meters west. How long will he walk and in what direction to reach his starting point ?

- (A) 1 meter in South
- (B) 2 meter in North
- (C) 2 meter in East
- (D) 1 meter in West

58. Which of the following pairs is different from others ?

- (A) Bag and Vegetables
- (B) Can and Petrol
- (C) Bottle and Milk
- (D) Ship and Boat

56. J और P के बीच में स्थित मध्यस्थ अक्षर से दायीं ओर के पांचवे अक्षर को चिन्हित कीजिए :

- (A) Q
- (B) R
- (C) S
- (D) O

57. एक आदमी 3 मीटर पूर्व की ओर और इसके बाद 3 मीटर दक्षिण की ओर जाता है, तत्पश्चात 3 मीटर पूर्व, 4 मीटर उत्तर और 6 मीटर पश्चिम की ओर चलता है। अब उसे अपनी प्रारंभिक बिंदु पर पहुँचाने के लिए कितनी दूरी और किस दिशा में चलन होगा ?

- (A) 1 मीटर दक्षिण
- (B) 2 मीटर उत्तर
- (C) 2 मीटर पूर्व
- (D) 1 मीटर पश्चिम

58. निम्न जोड़ों में कौन अन्यो से भिन्न है ?

- (A) थैला और सब्जी
- (B) बर्तन और पेट्रोल
- (C) शीशी और दूध
- (D) जहाज और नाव

59. If the statement, "Most of the students are disciplined" is taken as true. Then, carefully read the four statements given below and decide which one of the following pair of statements can be claimed to be true ?

Statements :

1. All disciplined persons are student.
2. All students are disciplined.
3. Some students are disciplined.
4. Some students are not disciplined.

- (A) 1 and 2
(B) 2 and 3
(C) 3 and 4
(D) 2 and 4

60. If letter A is used for 5, B for 6, C for 7, and so on. Then, what will be meaning of these following numbers ?

22, 19, 5, 8

- (A) RODA
(B) ROAD
(C) DOAR
(D) RAOD

59. यदि कथन "अधिकांश विद्यार्थी अनुशासित होते हैं" को सत्य मान लिया जाये। तो नीचे दिये गए चार कथनों को ध्यान से पढ़कर निश्चित करें कि निम्न में कौन एक कथनों का जोड़ा सही है ?

कथन :

1. सभी अनुशासित व्यक्ति विद्यार्थी हैं।
2. सभी विद्यार्थी अनुशासित हैं।
3. कुछ विद्यार्थी अनुशासित हैं।
4. कुछ विद्यार्थी अनुशासित नहीं हैं।

- (A) 1 और 2
(B) 2 और 3
(C) 3 और 4
(D) 2 और 4

60. यदि अक्षर A के लिए 5, B के लिए 6, C के लिए 7 प्रयोग होता है और इसी तरह आगे, तो निम्न संख्याओं का क्या अर्थ होगा :

22, 19, 5, 8

- (A) RODA
(B) ROAD
(C) DOAR
(D) RAOD

61. If 1st October is Saturday, then 1st November will be :

- (A) Saturday
- (B) Sunday
- (C) Monday
- (D) Tuesday

62. A 25 feet tall pillar casts a shadow that is 5 feet long on the ground. If the pillar is 35 feet tall. Then, how many feet long would the shadow be ?

- (A) 6 feet
- (B) 7 feet
- (C) 7.5 feet
- (D) 8 feet

63. Six persons A, B, C, D, E and F are standing in a circle. 'B' is between 'F' and 'C'. 'A' is between 'E' and 'D'. 'F' is just left of 'D'. Who is between 'A' and 'F' ?

- (A) D
- (B) C
- (C) E
- (D) B

61. यदि एक अक्टूबर को शनिवार है, तो एक नवम्बर को होगा :

- (A) शनिवार
- (B) रविवार
- (C) सोमवार
- (D) मंगलवार

62. एक 25 फीट लम्बे खम्बे की छाया जमीन पर 5 फीट पड़ती है। यदि खम्बा 35 फीट लम्बा है तो छाया की लम्बाई कितने फीट होगी ?

- (A) 6 फीट
- (B) 7 फीट
- (C) 7.5 फीट
- (D) 8 फीट

63. छः व्यक्ति A, B, C, D, E और F एक वृत्ताकार गोले में खड़े हैं। 'F' और 'C' के बीच में 'B' है। 'E' और 'D' के बीच में 'A' है। 'D' के तुरंत बायें तरफ 'F' है। 'A' और 'F' के बीच कौन है ?

- (A) D
- (B) C
- (C) E
- (D) B

64. Find out the missing number in the following series :

1, 3, 7, 13, 21,, 43

- (A) 28
(B) 29
(C) 30
(D) 31

65. A jar has bacteria in it. The bacteria multiply and double on each passing day. The jar fully filled in 30 days. Then, in how many days the jar will get half filled ?

- (A) 15
(B) 29
(C) 25
(D) 10

66. Predict the growth rate for the year 2023 from the data given below :

Year :	2018	2019	2020	2021	2022	2023
Growth Rate	1.5	1.7	2.1	2.9	4.5	?

- (A) 5.8
(B) 6.9
(C) 7.7
(D) 9.9

64. निम्नांकित श्रेणी में विलुप्त संख्या को ज्ञात कीजिए :

1, 3, 7, 13, 21,, 43

- (A) 28
(B) 29
(C) 30
(D) 31

65. एक जार में जीवाणु हैं। जीवाणु हर दिन द्विगुणित हो दोगुने हो जाते हैं। जार 30 दिन में पूरा भर जाता है। तब आधा जार कितने दिनों में भरेगा ?

- (A) 15
(B) 29
(C) 25
(D) 10

66. नीचे दिए गए आंकणों के आधार पर वर्ष 2023 के विकास दर की भविष्यवणी कीजिए :

वर्ष :	2018	2019	2020	2021	2022	2023
विकास दर :	1.5	1.7	2.1	2.9	4.5	?

- (A) 5.8
(B) 6.9
(C) 7.7
(D) 9.9

67. If X, Y and Z are the sides of a triangle, then which of the following is correct ?

(A) $(X + Y) = Z$

(B) $(X + Y) > Z$

(C) $(X + Y) < Z$

(D) $(X + Y) \leq Z$

68. Find odd one of the following :

(A) Sea Horse

(B) Dog Fish

(C) Elephant Fish

(D) Silver Fish

69. Which is the opposite of North-West ?

(A) East-West

(B) South-East

(C) North-East

(D) South-West

67. यदि X, Y और Z एक त्रिभुज की भुजाएं हैं, तो निम्नलिखित में क्या सही है ?

(A) $(X + Y) = Z$

(B) $(X + Y) > Z$

(C) $(X + Y) < Z$

(D) $(X + Y) \leq Z$

68. निम्नांकित में भिन्न को ज्ञात कीजिए :

(A) सी फिश

(B) डॉग फिश

(C) एलिफैंट फिश

(D) सिल्वर फिश

69. उत्तर-पश्चिम के विपरीत क्या है ?

(A) पूर्व-पश्चिम

(B) दक्षिण-पूर्व

(C) उत्तर-पूर्व

(D) दक्षिण-पश्चिम

70. If 8514 stands for 'HEAD', then what will 251695 stand for ?

- (A) BEAFIE
- (B) DEAFIE
- (C) BEAFFI
- (D) DEAFFI

Direction : Question no. 71 to 75 are based on following statements.

“Six members of a family A, B, C, D, E and F are travelling together. B is the son of C, but C is not the mother of B. A and C are married couple. E is brother of C. D is daughter of A and F is the brother of B.”

71. How many male members are there in the family ?

- (A) 1
- (B) 2
- (C) 3
- (D) 4

70. यदि 8514 के स्थान पर 'HEAD' है, तो 251695 के स्थान पर क्या होगा ?

- (A) BEAFIE
- (B) DEAFIE
- (C) BEAFFI
- (D) DEAFFI

निर्देश : (प्रश्न संख्या 71 से 75) निम्न कथन को पढ़कर प्रश्नों के उत्तर दीजिए।

A, B, C, D, E और F एक परिवार के छः सदस्य एक साथ यात्रा कर रहे हैं। B, C का पुत्र है, लेकिन C, B की माता नहीं है। A और C पति-पत्नी हैं। E, C का भाई है। D, A की पुत्री है तथा F, B का भाई है।

71. परिवार में कितने पुरुष सदस्य हैं ?

- (A) 1
- (B) 2
- (C) 3
- (D) 4

72. How many children are in family ?

- (A) One
- (B) Two
- (C) Three
- (D) Four

73. Who is wife of E ?

- (A) D
- (B) A
- (C) F
- (D) Can not say on the basis of given information.

74. Which of the following is a pair of females ?

- (A) B and D
- (B) A and D
- (C) A and E
- (D) D and F

72. परिवार में कितने बच्चे हैं ?

- (A) एक
- (B) दो
- (C) तीन
- (D) चार

73. E की पत्नी कौन है ?

- (A) D
- (B) A
- (C) F
- (D) दी गई सूचना के आधार पर कुछ नहीं कह सकते हैं

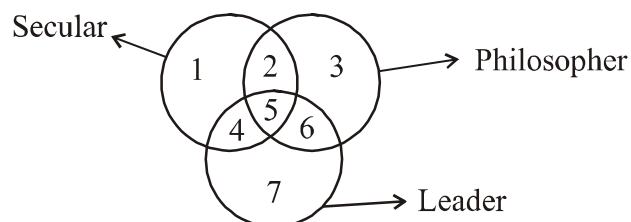
74. निम्नांकित में महिलाओं का जोड़ा कौन सा है ?

- (A) B और D
- (B) A और D
- (C) A और E
- (D) D और F

75. How is E related to D ?

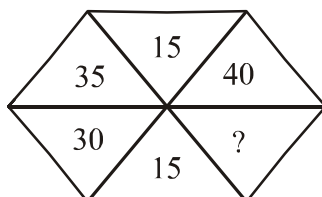
- (A) As uncle
- (B) As father
- (C) As brother
- (D) Can not determined

76. Which number represents those secular philosophers who are not leaders in the following figure ?



- (A) 1
- (B) 2
- (C) 3
- (D) 4

77. Which number will come in blank space of the figure ?

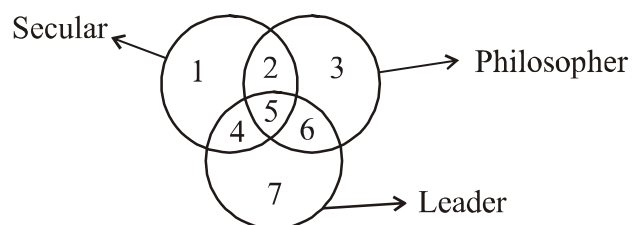


- (A) 50
- (B) 45
- (C) 55
- (D) 20

75. E किस प्रकार D से सम्बंधित है ?

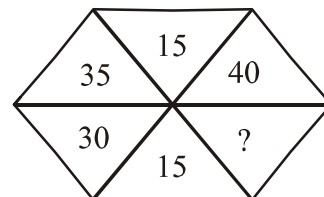
- (A) चाचा के रूप में
- (B) पिता के रूप में
- (C) भाई के रूप में
- (D) निर्धारित नहीं किया जा सकता

76. कौन सी संख्या उन पंथ-निरपेक्ष दार्शनिकों का प्रतिनिधित्व करती है, जो नेता नहीं हैं ?



- (A) 1
- (B) 2
- (C) 3
- (D) 4

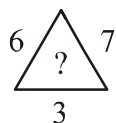
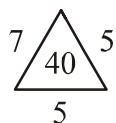
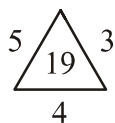
77. चित्र में रिक्त स्थान पर कौन सी संख्या होगी ?



- (A) 50
- (B) 45
- (C) 55
- (D) 20

78. Find the missing number in the following

figures :



(A) 16

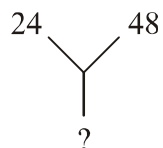
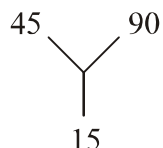
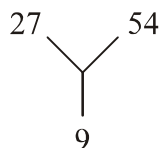
(B) 35

(C) 45

(D) 25

79. Which number will come in place of question

mark :



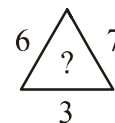
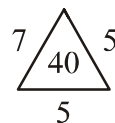
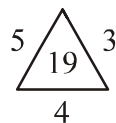
(A) 6

(B) 7

(C) 8

(D) 9

78. निम्न चित्र में विलुप्त संख्या ज्ञात कीजिए :



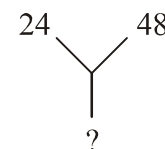
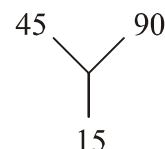
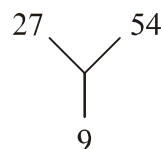
(A) 16

(B) 35

(C) 45

(D) 25

79. प्रश्न चिन्ह के स्थान पर कौन सी संख्या आयेगी ?



(A) 6

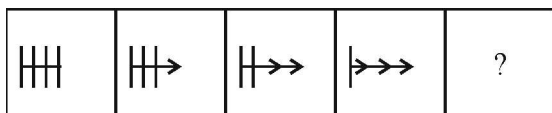
(B) 7

(C) 8

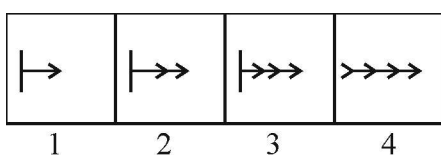
(D) 9

80. Pick up one figure from the answer figures which completes the series of problem figures :

Problem Figure



Answer Figure



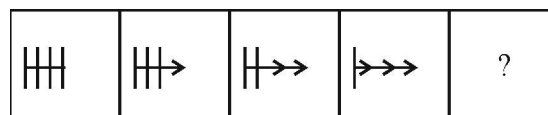
- (A) 1
(B) 2
(C) 3
(D) 4

81. Which does not goes with others ?

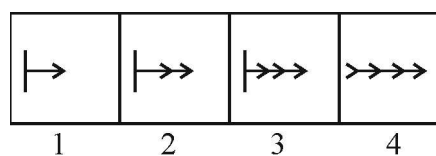
- (A) Grape
(B) Mango
(C) Banana
(D) Orange

80. उत्तर चित्र से एक चित्र का चयन करें जो समस्या चित्र को पूर्ण करे :

समस्या चित्र



उत्तर चित्र



- (A) 1
(B) 2
(C) 3
(D) 4

81. कौन सा अन्य के साथ नहीं जाता है ?

- (A) अंगूर
(B) आम
(C) केला
(D) संतरा

82. A man has 31 flowers. He offers one flower in first temple. In second temple he offers flowers double that of in first. In third temple double that of in second. So on, in how many maximum temples he can offers flowers ?

(A) 7

(B) 6

(C) 5

(D) 4

83. If today is Wednesday, what will be the day 25 days after next Sunday ?

(A) Thursday

(B) Friday

(C) Saturday

(D) Sunday

82. एक व्यक्ति के पास 31 पुष्प हैं। वह पहले मंदिर में एक पुष्प चढ़ाता है। दूसरे मंदिर में पहले से दोगुना चढ़ाता है। तीसरे मंदिर में दूसरे से दोगुना। इस प्रकार वह कितने अधिकतम मंदिरों में पुष्प चढ़ा सकेगा ?

(A) 7

(B) 6

(C) 5

(D) 4

83. यदि आज बुधवार है, तो अगले रविवार के बाद 25वें दिन कौन सा दिन होगा ?

(A) गुरुवार

(B) शुक्रवार

(C) शनिवार

(D) रविवार

84. The average age of 30 students is 12 years. If the age of their teacher is also included, then average age increases by one year. What is the teacher's age ?

- (A) 33
- (B) 43
- (C) 53
- (D) 63

85. 45 are 5 percent of which of the following ?

- (A) 600
- (B) 700
- (C) 800
- (D) 900

86. Choose the correct letter which is prefixed to the following words, then they form new words :

all, rack, rib, over

- (A) C
- (B) A
- (C) D
- (D) I

84. 30 विद्यार्थियों की औसत आयु 12 वर्ष है। यदि उनके एक अध्यापक की आयु भी सम्मिलित कर ले तो औसत आयु एक वर्ष बढ़ जाती है। अध्यापक की आयु क्या है ?

- (A) 33
- (B) 43
- (C) 53
- (D) 63

85. निम्नांकित में 45 किसका 5 प्रतिशत हैं ?

- (A) 600
- (B) 700
- (C) 800
- (D) 900

86. एक सही अक्षर का चुनाव कीजिए जिसे निम्न शब्दों के प्रारंभ में लगाते हैं तो वे नए शब्द बनाते हैं :

all, rack, rib, over

- (A) C
- (B) A
- (C) D
- (D) I

87. If 'OQNEDRRNQ' is a code for 'PROFESSOR', then 'SDZBGDQ' is a code for :

- (A) TAECHAR
- (B) TIECHER
- (C) TEACHER
- (D) None of the above

88. The good citizen is one who is :

- (A) Politically and socially well informed
- (B) Aware of his social obligation
- (C) Well behaved
- (D) Knowledgeable about the constitution

89. Gram is to kilogram, what millimeter is to :

- (A) Decimeter
- (B) Centimeter
- (C) Kilometer
- (D) Meter

87. यदि 'OQNEDRRNQ' का कोड 'PROFESSOR' है, तो 'SDZBGDQ' का कोड है :

- (A) TAECHAR
- (B) TIECHER
- (C) TEACHER
- (D) उपरोक्त में कोई नहीं

88. एक अच्छा नागरिक वह है जो कि :

- (A) राजनैतिक और सामाजिक ज्ञान रखता है
- (B) अपने सामाजिक दायित्व के प्रति जागरूक है
- (C) शिष्ट है
- (D) संविधान के बारे में ज्ञान रखता है

89. ग्राम के लिए किलोग्राम, तो मिलीमीटर के लिए :

- (A) डेसीमीटर
- (B) सेंटीमीटर
- (C) किलोमीटर
- (D) मीटर

90. If, $2 \times 7 = 7$, $8 + 6 = 7$ and $28 \div 2 = 7$

then, $14 - 7 = ?$

(A) 7

(B) 6

(C) 3.5

(D) 3

91. There are Monkeys and Pigeons in a zoo. If the heads of both of them are counted, then it is 90. But the legs are 220. What is the number of Pigeons in zoo ?

(A) 64

(B) 66

(C) 68

(D) 70

92. In a code language 'RAMA' is written as '5898' and 'SITA' is written as '7638'. Then 'SIMA' will be written as :

(A) 9876

(B) 7698

(C) 7689

(D) 9867

90. यदि, $2 \times 7 = 7$, $8 + 6 = 7$ और $28 \div 2 = 7$

तब $14 - 7 = ?$

(A) 7

(B) 6

(C) 3.5

(D) 3

91. एक चिड़ियाघर में कुछ बन्दर एवं कबूतर हैं। यदि दोनों के सिर गिनते हैं, तो यह 90 है। परन्तु पैरों की संख्या 220 है। चिड़ियाघर में कबूतरों की संख्या क्या है ?

(A) 64

(B) 66

(C) 68

(D) 70

92. संकेत भाषा में 'RAMA' को '5898' लिखते हैं तथा 'SITA' को '7638' लिखते हैं। तब 'SIMA' को लिखेंगे :

(A) 9876

(B) 7698

(C) 7689

(D) 9867

93. Fill in the blank :

9, 10, 12, 15,, 24

(A) 17

(B) 18

(C) 19

(D) 20

94. Select from the following which does not belongs to the group :

(A) Water

(B) Gasoline

(C) Wind

(D) Rock

95. If BAT = 69 and BOOK = 129, then PEN = ?

(A) 100

(B) 98

(C) 105

(D) 89

93. रिक्त स्थान की पूर्ति करें :

9, 10, 12, 15,, 24

(A) 17

(B) 18

(C) 19

(D) 20

94. निम्न में से एक का चयन करें जो समूह से मेल नहीं खाता है :

(A) पानी

(B) गैसोलीन

(C) हवा

(D) पत्थर

95. यदि BAT = 69 और BOOK = 129, then PEN = ?

(A) 100

(B) 98

(C) 105

(D) 89

96. Swati ranks 15th in a class of 45 students. What is her position in class from the bottom ?

(A) 30th

(B) 31st

(C) 32nd

(D) 33rd

97. In certain code language PHONE is coded as QIPOF. How will the word EMAIL be written in that code language ?

(A) FNBJM

(B) FNBJN

(C) FNJBM

(D) FNJBN

98. Pick out the odd one from the following :

(A) Lucknow

(B) Patna

(C) Bhopal

(D) Nainital

96. 45 विद्यार्थियों की कक्षा में स्वाति का 15वां स्थान है। कक्षा में नीचे से उसका क्या स्थान है ?

(A) 30वां

(B) 31वां

(C) 32वां

(D) 33वां

97. एक निश्चित कोड भाषा में PHONE को QIPOF लिखा जाता है। EMAIL को उस कोड भाषा में कैसे लिखेंगे ?

(A) FNBJM

(B) FNBJN

(C) FNJBM

(D) FNJBN

98. निम्न में विषम को चुनिए :

(A) लखनऊ

(B) पटना

(C) भोपाल

(D) नैनीताल

99. Ramesh walks 5 km in North direction and then he turns left and goes 3 km. He again turns left and goes 2 km. After that he turns right and walks straight. In which direction is he walking now ?

- (A) East
- (B) West
- (C) North
- (D) South

100. Pick out odd one from the following :

- (A) Oxford
- (B) Cambridge
- (C) Nalanda
- (D) Ajanta

99. रमेश उत्तर दिशा में 5 किमी जाता है और तब बायें मुड़कर 3 किमी जाता है। वह पुनः बायें मुड़कर 2 किमी जाता है। इसके बाद वह दायें मुड़ता है और सीधा चलता है। अब वह किस दिशा में चल रहा है ?

- (A) पूर्व
- (B) पश्चिम
- (C) उत्तर
- (D) दक्षिण

100. निम्न में से बेमेल को चुनिए :

- (A) आक्सफोर्ड
- (B) कैम्ब्रिज
- (C) नालंदा
- (D) अजंता

Teaching Aptitude

शिक्षण-अभिवृत्ति

There are total fifty (50) questions related to teaching aptitude, from Question No. 101 to 150, each has four responses/alternatives out of which only one response is correct, select that and mark accordingly.

101. To maintain the interest of students in the topic, a teacher must do following activity during his teaching :

- (A) Interaction
- (B) Lecture method
- (C) Write on black board only
- (D) Keep silence

102. Which teaching approach from the following is based on the belief that “The teacher knows everything that a learner is required to know” :

- (A) Constructive Approach
- (B) Teacher Centred Approach
- (C) Subject Centred Approach
- (D) Learner Centred Approach

प्रश्न संख्या 101 से 150 तक कुल पचास (50) प्रश्न शिक्षण अभिवृत्ति से सम्बन्धित हैं, प्रत्येक प्रश्न के उत्तर के रूप में चार विकल्प दिए गए हैं जिनमें से केवल एक विकल्प सही उत्तर है। उसे छांटिए और चिन्हित कीजिए।

101. शिक्षण के समय पाठ में छात्रों की रुचि बनाए रखने हेतु शिक्षक को निम्न क्रिया करनी चाहिए :

- (A) अन्तःक्रिया
- (B) व्याख्यान विधि
- (C) श्यामपट्ट पर केवल लेखन
- (D) मौन रहना

102. निम्न में से कौन सा शिक्षण दृष्टिकोण इस विश्वास पर आधारित है कि “शिक्षक वह सब कुछ जानता है जिसे शिक्षार्थी को जानने की आवश्यकता है :

- (A) संरचनावादी / निर्माणवादी दृष्टिकोण
- (B) शिक्षक केन्द्रित दृष्टिकोण
- (C) विषय केन्द्रित दृष्टिकोण
- (D) शिक्षार्थी केन्द्रित दृष्टिकोण

103. The meaning of Humanitarian Environment

in class is that :

- (A) To establish humanitarian relationship with students
- (B) To assign more homework
- (C) More emphasis on cramming
- (D) None of the above

104. Which of the following does not affect the

development of attitude among students :

- (A) Home
- (B) Peer Group
- (C) National Institutions
- (D) School

105. A true teacher is who

- (A) Free from compulsions of the society
- (B) Created teacher association
- (C) is orthodox
- (D) irresponsible

103. कक्षा में मानवीय वातावरण बनाने से आशय है

कि :

- (A) छात्रों के साथ मानवीय सम्बन्धों की स्थापना
- (B) अधिक गृहकार्य देने से
- (C) रटने पर अधिक बल देने से
- (D) उपरोक्त में से कोई नहीं

104. निम्न में से कौन सा कारक बच्चों में दृष्टिकोण के

विकास को प्रभावित नहीं करता :

- (A) गृह
- (B) समकक्ष व्यक्तियों का समूह
- (C) राष्ट्रीय संस्थान
- (D) विद्यालय

105. एक वास्तविक शिक्षक वह है जो

- (A) समाज की बाध्यताओं से मुक्त हो
- (B) जिसने शिक्षक-संघ का निर्माण किया हो
- (C) रूढ़िवादी हो
- (D) उत्तरदायी न हो

106. If a student is not able to answer a question during your teaching, then you will :

- (A) Insult him
- (B) Tell him the correct answer
- (C) Try to understand why that student was not able to answer
- (D) Advice the student to study hard

107. You like teaching profession because :

- (A) In presence of a teacher children do not remain naughty
- (B) Your parents had told you that teaching is a dignified profession
- (C) You have an interest in teaching
- (D) None of these

108. One of the measures of making class teaching more effective is :

- (A) Assign homework in excess
- (B) Give tutorials after the class teaching
- (C) Ask questions related to the topic taught in class
- (D) None of the above

106. यदि आपके शिक्षण के समय कोई छात्र आपके प्रश्न का उत्तर न दे पाए तो आप :

- (A) उसका अपमान करेंगे
- (B) उसे सही उत्तर बताएंगे
- (C) यह समझने का प्रयास करेंगे कि वह छात्र सही उत्तर देने में समर्थ क्यों नहीं था
- (D) छात्र को और अधिक परिश्रम से अध्ययन हेतु सुझाव दोगे

107. आप शिक्षण व्यवसाय को पसन्द करते हैं क्योंकि :

- (A) अध्यापक की उपस्थिति में बच्चे शैतानी नहीं करते
- (B) आपके माता-पिता ने आपको बताया है कि शिक्षण एक सम्मानित व्यवसाय है
- (C) आप शिक्षण में रुचि रखते हैं
- (D) इनमें से कोई नहीं

108. कक्षा शिक्षण को और अधिक प्रभावशाली बनाने का एक उपाय है :

- (A) गृहकार्य अधिक दें
- (B) कक्षा शिक्षण के उपरान्त ट्यूटोरियल दें
- (C) कक्षा में पढ़ाए गए प्रकरण से सम्बन्धित प्रश्न पूछें
- (D) उपरोक्त में से कोई नहीं

109. By which characteristic of a teacher the students are generally impressed ?

- (A) His/her introvert personality
- (B) His/her high moral character
- (C) His/her relations with principal
- (D) His/her relations with managing committee

110. The best way to encourage a teacher who works with complete dedication is to

- (A) Give him/her a prize
- (B) Condemn his/her work
- (C) His/her salary withholding
- (D) Praise his/her work from time to time

111. Being a teacher, you would :

- (A) Listen the personal problem of a particular child only
- (B) Listen the problems of students
- (C) Never listen the problems of students
- (D) Will threaten the students

109. शिक्षक के किस गुण से सामान्यतः छात्र प्रभावित हो जाते हैं ?

- (A) उसके अंतर्मुखी व्यक्तित्व से
- (B) उसके उच्च नैतिक चरित्र से
- (C) उसके प्रधानाचार्य के साथ सम्बन्धों से
- (D) प्रबन्ध समिति से उसके सम्बन्धों से

110. किसी निष्ठावान शिक्षक को प्रोत्साहित करने की सर्वोत्तम विधि है :

- (A) उसे पुरस्कार प्रदान कीजिए
- (B) उसके कार्य की निन्दा करके
- (C) उसके वेतन को रोकना
- (D) समय-समय पर उसके कार्य की प्रशंसा करना

111. एक अध्यापक होने के नाते आप :

- (A) केवल एक विशिष्ट बालक की व्यक्तिगत समस्या को सुनेंगे
- (B) छात्रों की समस्याओं को सुनेंगे
- (C) छात्रों की समस्याओं को नहीं सुनेंगे
- (D) छात्रों को धमका देंगे

112. Some students quietly run away from the school. In order to check this behaviour of those students, you would :

- (A) Try to know the reason why do they run away from the school
- (B) Punish those students
- (C) Will not permit to enter the school in future
- (D) None of the above

113. A superior teacher is one who :

- (A) Gives leadership to his students
- (B) Takes interest in the all around development of students
- (C) Strictly follows the discipline
- (D) All of the above

114. More indiscipline usually prevails in the class-room if :

- (A) The teacher taught ratio is not proper
- (B) There is not enough work to keep children busy
- (C) The teacher is unable to make classroom teaching interesting enough
- (D) None of the above

112. कुछ छात्र चुपचाप ही विद्यालय से भाग जाते हैं।

ऐसे छात्रों के व्यवहार को रोकने के लिए आप करेंगे :

- (A) वो स्कूल से क्यों भाग जाते हैं इसके कारण को जानने का प्रयास करेंगे
- (B) उन छात्रों को दण्ड देंगे
- (C) भविष्य में विद्यालय में आने की अनुमति नहीं देंगे
- (D) उपरोक्त में से कोई नहीं

113. एक उत्तम अध्यापक वह है जो :

- (A) अपने छात्रों को नेतृत्व प्रदान करता है
- (B) छात्रों के सर्वांगीण विकास में रुचि लेता है
- (C) अनुशासन का कठोरता से पालन करता है
- (D) उपरोक्त सभी

114. कक्षा कक्ष में अधिक अनुशासनहीनता प्रायः तब फैलती है जब :

- (A) शिक्षक-शिक्षार्थी का अनुपात उचित नहीं है
- (B) बच्चों को व्यस्त रखने हेतु पर्याप्त कार्य नहीं है
- (C) शिक्षक कक्षा कक्ष शिक्षण को पर्याप्त रूप से रोचक बनाने में असफल है
- (D) उपरोक्त में से कोई नहीं

115. If a student has asked you a question and you don't know the answer then what would you do ?

- (A) You will give scolding that student
- (B) Ignore his question
- (C) Tell him that his question is out-of-context
- (D) You will assure the student that you would find the correct answer of that question and will tell him about the same on next day

116. A teacher must know the names of his students, so that

- (A) The relationship of the teacher with his students will be consolidated
- (B) Students will avoid mischievous behaviour
- (C) Students will be disciplined
- (D) All of the above

117. The teacher should reach school in time so that :

- (A) The students will learn the lesson of punctuality
- (B) The students may lose their confidence
- (C) The students may not trust upon that teacher
- (D) None of the above

115. एक छात्र ने आपसे एक प्रश्न पूछा और आप उसका उत्तर नहीं जानते तब आप क्या करेंगे ?

- (A) आप उस छात्र को डाँट देंगे
- (B) उसके प्रश्न की उपेक्षा कर देंगे
- (C) उसमें कहेंगे कि उसका प्रश्न प्रसंग के बाहर का है
- (D) आप छात्र को आश्वासन देंगे कि उस प्रश्न का सही उत्तर पता कर के अगले दिन उसे बताएँगे

116. एक शिक्षक को अपने छात्रों के नाम ज्ञात होने चाहिए, जिसमें :

- (A) शिक्षक के अपने छात्रों के साथ सम्बन्ध सुदृढ़ हो जाएंगे
- (B) छात्र उद्दण्डतापूर्ण व्यवहार की उपेक्षा करेंगे
- (C) छात्र अनुशासित रहेंगे
- (D) उपरोक्त सभी

117. शिक्षक को समय पर विद्यालय पहुँचना चाहिए जिससे :

- (A) छात्र समयनिष्ठा का पाठ सीखेंगे
- (B) छात्र अपना आत्मविश्वास खो सकते हैं
- (C) छात्र अपने शिक्षक पर विश्वास नहीं कर सकते
- (D) उपरोक्त में से कोई नहीं

118. The inspection of school must be organized time to time because :

- (A) On this occasion attention is not given on students
- (B) An artificial atmosphere is created in the school
- (C) Teachers get an opportunity to have discussions with senior officers of education department
- (D) None of the above

119. The meaning of child-centred teaching is :

- (A) Taking care of needs of a child
- (B) Let the child do whatever he wants to do
- (C) Let the child play
- (D) Give free education to every child

120. If a student uses indecent language in the class-room, then the possible reason for such behaviour of that student may be as

- (A) The same language is used at his home
- (B) The some language is used in his neighbourhood
- (C) Responses "A" and "B" both are correct
- (D) Neither response "A" nor "B" is correct

118. विद्यालय का निरीक्षण समय-समय पर किया जाना चाहिए क्योंकि :

- (A) इस अवसर पर छात्रों पर ध्यान नहीं दिया जाता
- (B) विद्यालय में कृत्रिम वातावरण तैयार किया जाता है
- (C) शिक्षकों को शिक्षा विभाग के वरिष्ठ अधिकारियों से विचार-विमर्श का अवसर प्राप्त हो जाता है
- (D) उपरोक्त में से कोई नहीं

119. बाल-केन्द्रित शिक्षण का अर्थ है :

- (A) बालक की आवश्यकताओं का ध्यान रखना
- (B) जो बालक चाहता है उसे वह करने दिया जाए
- (C) बालक को खेलने दिया जाए
- (D) प्रत्येक बालक को निःशुल्क शिक्षा दी जाए

120. यदि कोई छात्र कक्षा कक्ष में अभद्र भाषा का प्रयोग करता है तो उस छात्र के इस व्यवहार का सम्भव कारण हो सकता है

- (A) उसके घर पर वही भाषा प्रयोग की जाती हो
- (B) उसके अड़ोस-पड़ोस में वही भाषा प्रयोग की जाती हो
- (C) उत्तर "A" एवं "B" दोनों सही हैं
- (D) न तो उत्तर "A" और न ही उत्तर "B" सही हैं

121. If a teacher condemns any student in the class then it may cause :

- (A) All the students of that class will praise the courage of that teacher
- (B) The student in question will feel insulted and discouraged
- (C) The student may be praised or condemned by teacher any time
- (D) None of the above

122. If a student comes to the class wearing unironed and dirty uniform then you will :

- (A) Not let him sit in class
- (B) Make fun of him in the class
- (C) Ignore him
- (D) Tell him politely that it is not good habit to come the class in dirty and unironed uniform

123. For better learning the environment of the class must be :

- (A) Democratic
- (B) Autocratic
- (C) Authoritative
- (D) Boring

121. यदि एक अध्यापक किसी छात्र की भर्त्सना/निन्दा कक्षा में करता है तो इसके कारण :

- (A) उस कक्षा के समस्त छात्रगण उस अध्यापक के साहस की प्रशंसा करेंगे
- (B) प्रश्नगत छात्र अपना अपमान मानेगा एवं हतोत्साहित होगा
- (C) शिक्षक कभी भी छात्र की भर्त्सना या प्रशंसा कर सकता है
- (D) उपरोक्त में से कोई नहीं

122. यदि एक छात्र बिना प्रेस किए हुए एवं गंदे गणवेश को पहन कर कक्षा में आता है तब आप :

- (A) उसे कक्षा में बैठने नहीं देंगे
- (B) कक्षा में उसका उपहास उड़ाएंगे
- (C) उसकी उपेक्षा करेंगे
- (D) उसे नम्रता के साथ बताएंगे कि कक्षा में बिना प्रेस के एवं गंदे गणवेश को पहन कर आना उत्तम आदत नहीं है

123. उत्तम अधिगम हेतु कक्षा का वातावरण होना चाहिए :

- (A) लोकतांत्रिक
- (B) निरंकुश/एकतंत्रवादी
- (C) अधिकारिक
- (D) उबाऊ

124. For a student the role of a teacher must be as

a :

- (A) Resource-Person
- (B) Mentor
- (C) Friend
- (D) All of the above

125. Which one of the following characteristics is developed among students by organizing group activities in classroom :

- (A) The spirit of leadership
- (B) Indiscipline
- (C) Non-cooperation
- (D) Selfish

126. In primary schools the operation black board is related to :

- (A) Supplying the basic facilities
- (B) Raise the standards of education
- (C) Give mid-day meal to students
- (D) Training of teachers

124. एक छात्र हेतु शिक्षक की भूमिका होनी चाहिए :

- (A) विशेषज्ञ/संसाधन व्यक्ति
- (B) पथ-प्रदर्शक
- (C) मित्र
- (D) उपरोक्त सभी

125. कक्षा कक्ष में समूह गतिविधियों के द्वारा छात्रों में निम्न में से किस विशेषता का विकास किया जाता है :

- (A) नेतृत्व की भावना
- (B) अनुशासनहीनता
- (C) असहयोग
- (D) स्वार्थी

126. प्राथमिक विद्यालयों में "आपरेशन ब्लैकबोर्ड" का सम्बन्ध है :

- (A) आधारभूत सुविधाओं को उपलब्ध कराने में
- (B) शिक्षा के स्तरों को उठाने हेतु
- (C) छात्रों को मध्याह्न भोजन उपलब्ध कराने से
- (D) शिक्षकों के प्रशिक्षण से

127. If a teacher has ineffective skill of communication then which of the following problems may take place in classroom :

- (A) Indiscipline in the class
- (B) Decline interest among pupils in the class
- (C) Increase in the number of absentees
- (D) All of the above

128. Being a teacher will you create a feeling of fear among your students ?

- (A) Yes, because discipline can't be ensured without fear
- (B) Yes, because students can't learn without fear
- (C) No this will decrease the creativity among students
- (D) No, because a criminal case may be lodged against you

129. If a debate competition is going to be organized in your school and your students want to participate then you will :

- (A) Write their speech
- (B) Dictate them their speeches
- (C) Provide them some text books and study material for preparing their speech
- (D) None of the above

127. यदि किसी शिक्षक का संचार या सम्प्रेषण कौशल प्रभावहीन है तो निम्न में से कौन सी समस्या उत्पन्न हो सकती है :

- (A) कक्षा में अनुशासनहीनता
- (B) कक्षा में छात्रों में रुचि में कमी
- (C) अनुपस्थित छात्रों की संख्या में वृद्धि
- (D) उपरोक्त सभी

128. एक अध्यापक होने के नाते क्या आप अपने छात्रों में भय का भाव निर्मित करेंगे ?

- (A) हाँ, क्योंकि भय के बिना अनुशासन सुनिश्चित नहीं किया जा सकता
- (B) हाँ, क्योंकि बिना भय के छात्र सीख नहीं सकते
- (C) नहीं, इससे छात्रों में रचनात्मकता कम होगी
- (D) नहीं, क्योंकि आपके विरुद्ध अपराधिक वाद दर्ज कराया जा सकता है

129. आपके विद्यालय में एक वाद-विवाद प्रतियोगिता आयोजित की जाने वाली है एवं उसमें आपके छात्र भाग लेना चाहते हैं तो आप :

- (A) उनका भाषा लिखेंगे
- (B) उनके भाषण बोलकर लिखवा देंगे
- (C) उनके भाषण को तैयार करने हेतु उन्हें पाठ्य-पुस्तकें व अध्ययन सामग्री उपलब्ध करा देंगे
- (D) उपरोक्त में से कोई नहीं

130. How can we inculcate the self discipline among our students :

- (A) By keeping them under strict code of conduct
- (B) By punishing them time to time
- (C) By providing information to them regarding the teachers of the school
- (D) By giving them the responsibilities

131. The least connected characteristic with a teacher is :

- (A) Effective communication skill
- (B) Mastery over the subject matter
- (C) Politically active
- (D) Good interaction with students

132. The most important quality of a teacher is :

- (A) Impatience
- (B) Introvert Personality
- (C) Arrogant
- (D) Confident

130. हम अपने छात्रों में स्वअनुशासन कैसे विकसित कर सकते हैं :

- (A) उन्हें कठोर आचार संहिता में रख कर
- (B) समय-समय पर उन्हें दण्डित कर के
- (C) विद्यालय के शिक्षकों के विषय में सूचना उपलब्ध करा कर
- (D) उन्हें उत्तरदायित्वों को सौंपकर

131. एक अध्यापक से न्यूनतम सम्बन्धित लक्षण है :

- (A) प्रभावशाली संचार कौशल
- (B) पाठ्यवस्तु पर आधिपत्य
- (C) राजनीतिक रूप से सक्रियता
- (D) छात्रों के साथ उत्तम अन्तःक्रिया

132. एक अध्यापक का अत्यधिक महत्वपूर्ण गुण है :

- (A) अधरिता
- (B) अर्न्तमुखी व्यक्तित्व
- (C) अभिमानी होना
- (D) आत्मविश्वासी होना

133. What ever the child learns in his family and

community is known as :

- (A) Formal Education
- (B) Informal Education
- (C) Structured Education
- (D) School Education

134. The teacher must ask the questions :

- (A) To whole class/All students
- (B) To a particular student
- (C) To front benchers only
- (D) To back benchers only

135. Mal adjustment in children is :

- (A) A result of motivation
- (B) A result of frustration
- (C) A result of hard working
- (D) None of the above

133. एक बालक जो कुछ अपने परिवार में या समुदाय

में सीखता है, उसे कहते हैं :

- (A) औपचारिक शिक्षा
- (B) अनौपचारिक शिक्षा
- (C) संरचित शिक्षा
- (D) विद्यालयी शिक्षा

134. एक अध्यापक को प्रश्न पूछना चाहिए :

- (A) सम्पूर्ण कक्षा से/सभी छात्रों से
- (B) एक विशिष्ट छात्र से
- (C) केवल आगे बैठने वाले छात्रों से
- (D) केवल पीछे बैठने वाले छात्रों से

135. बालकों में अपसमायोजन की समस्या होती है :

- (A) अभिप्रेरण के परिणाम स्वरूप
- (B) भगनाशा के परिणाम स्वरूप
- (C) कठोर परिश्रम के परिणाम स्वरूप
- (D) उपरोक्त में से कोई नहीं

136. Motivation is a :

- (A) Natural state
- (B) Physical state
- (C) Psychological state
- (D) None of the above

137. A teacher must have following attitude towards weak students in classroom :

- (A) Full of ignorance
- (B) Harsh and autocratic
- (C) Sympathetic and friendly
- (D) None of the above

138. Which statement is not correct in relation to teaching :

- (A) There is a feeling in teaching that some one learns something
- (B) The characteristic of teaching is that there is a relationship between teacher and Taught
- (C) Teaching is an essential condition of Education but not sufficient or complete
- (D) Children learn compulsorily as a result of teaching

136. अभिप्रेरणा है :

- (A) प्राकृतिक अवस्था
- (B) शारीरिक अवस्था
- (C) मानसिक अवस्था
- (D) उपरोक्त में से कोई नहीं

137. कक्षा में कमजोर छात्रों के प्रति एक अध्यापक का दृष्टिकोण कैसा होना चाहिए :

- (A) पूर्णतः अनभिज्ञता पूर्ण
- (B) कठोर एवं निरंकुशतावादी
- (C) सहानुभूति एवं मित्रतापूर्ण
- (D) उपरोक्त में से कोई नहीं

138. अध्यापन के विषय में निम्नलिखित में से कौन सा कथन सही नहीं है :

- (A) अध्यापन में यह भावना निहित होती है कि कोई कुछ न कुछ सीखता ही है
- (B) अध्यापन की यह विशेषता है कि अध्यापक और अध्येता के मध्य विशेष सम्बन्ध होता है
- (C) अध्यापन शिक्षा की एक आवश्यक शर्त तो होती है परन्तु पर्याप्त या पूर्ण नहीं
- (D) अध्यापन के परिणाम स्वरूप बच्चे अनिवार्यतः सीखते हैं

139. An effective teaching includes :

- (A) Only teacher is active
- (B) Only students are active
- (C) Both teacher and students are active
- (D) None of the above

140. The benefit of assigning regular home work to the students is :

- (A) Formation of habit of self studies
- (B) To inform the parents of students about their studies
- (C) To decrease the work load of teachers
- (D) None of the above

141. The purpose to ask the question by a teacher in the class is :

- (A) To maintain discipline
- (B) To show his own intelligence
- (C) To seek the attention of students
- (D) None of the above

139. एक प्रभावशाली शिक्षण में सम्मिलित होता है :

- (A) केवल शिक्षक क्रियाशील होता है
- (B) केवल छात्र क्रियाशील होते हैं
- (C) अध्यापक एवं छात्र दोनों क्रियाशील होते हैं
- (D) उपरोक्त में से कोई नहीं

140. विद्यार्थियों को नियमित रूप से गृह कार्य देने का लाभ क्या है :

- (A) स्वाध्याय की आदत डालना
- (B) विद्यार्थियों के माता-पिता को उनके अध्ययन के विषय में सूचित करना
- (C) शिक्षकों के कार्य के बोझ को कम करना
- (D) उपरोक्त में से कोई नहीं

141. कक्षा में शिक्षक द्वारा प्रश्न पूछने का उद्देश्य है :

- (A) अनुशासन बनाए रखने हेतु
- (B) अपनी बुद्धिमत्ता दिखाने हेतु
- (C) विद्यार्थियों के ध्यानाकर्षण हेतु
- (D) उपरोक्त में से कोई नहीं

142. In an autocratic teaching :

- (A) Only students are active
- (B) Only teacher is active
- (C) Neither students nor teacher is active
- (D) None of the above

143. Which word of the following refers to the science and art of teaching ?

- (A) Adult Education
- (B) Sociology
- (C) Psychology
- (D) Pedagogy

144. Which word of the following has the most comprehensive meaning :

- (A) Aims
- (B) Objectives
- (C) Specific objectives
- (D) Instructional objectives

142. प्रभुत्ववादी शिक्षण में :

- (A) केवल छात्र सक्रिय रहते हैं
- (B) केवल शिक्षक सक्रिय रहता है
- (C) न छात्र एवं न ही शिक्षक सक्रिय रहता है
- (D) उपरोक्त में से कोई नहीं

143. निम्न में से कौन सा शब्द शिक्षण की कला व विज्ञान को सन्दर्भित करता है ?

- (A) प्रौढ़-शिक्षा
- (B) समाज विज्ञान
- (C) मनोविज्ञान
- (D) शिक्षण शास्त्र (पैडागाजी)

144. निम्न में से कौन से शब्द का सर्वाधिक व्यापक अर्थ है :

- (A) लक्ष्य
- (B) उद्देश्य
- (C) विशिष्ट उद्देश्य
- (D) अनुदेशनात्मक उद्देश्य

145. An effective Teaching-Learning process must

be least correlated with :

- (A) Cramming
- (B) Learning by doing
- (C) Discussion
- (D) Problem solving

146. The meaning of teaching aptitude is :

- (A) Dedication towards teaching
- (B) Deep desire to give knowledge to students
- (C) To have capacity to teach
- (D) All of the above

147. A democratic teaching is :

- (A) Teacher-centred
- (B) Student-centred
- (C) Principal-centred
- (D) Manager-centred

145. एक प्रभावशाली शिक्षण-अधिगम प्रक्रिया का न्यूनतम

सम्बन्ध होना चाहिए :

- (A) रटने से
- (B) करके सीखना
- (C) वाद-विवाद
- (D) समस्या समाधान

146. शिक्षण-अभिक्षमता से तात्पर्य है :

- (A) शिक्षण के प्रति समर्पण
- (B) छात्रों को ज्ञान देने की तीव्र इच्छा
- (C) शिक्षण की क्षमता रखना
- (D) उपरोक्त सभी

147. एक लोकतांत्रिक शिक्षण है :

- (A) अध्यापक केन्द्रित
- (B) छात्र केन्द्रित
- (C) प्रधानाचार्य केन्द्रित
- (D) प्रबन्धक केन्द्रित

148. A Lecture can be used to provide :

- (A) Factual Information
- (B) Brief description at higher level
- (C) To explain theoretically
- (D) All of the above

149. At the time of writing on black board a teacher must keep in his mind :

- (A) Good writing
- (B) Clear formation of words
- (C) Sketching of clear picture
- (D) All of the above

150. During lesson teaching a teacher must focus on :

- (A) Student
- (B) Principal
- (C) Himself
- (D) Manager of School

148. व्याख्यान का प्रयोग को उपलब्ध कराने हेतु किया जा सकता है।

- (A) तथ्यात्मक सूचना प्रदान करने हेतु
- (B) उच्च स्तर पर संक्षिप्त विवरण देने हेतु
- (C) सैद्धांतिक रूप से व्याख्या करने हेतु
- (D) उपरोक्त सभी हेतु

149. श्यामपट्ट पर लिखते समय अध्यापक को किस बात का ध्यान रखना चाहिए :

- (A) उत्तम लेखन
- (B) शब्दों को स्पष्ट बनाना
- (C) स्पष्ट चित्र आरेखन
- (D) उपरोक्त सभी

150. पाठ-शिक्षण के समय अध्यापक का ध्यान किस पर होना चाहिए :

- (A) विद्यार्थी पर
- (B) प्रधानाचार्य पर
- (C) स्वयं पर
- (D) विद्यालय के प्रबन्धक पर

[SPACE FOR ROUGH WORK / कच्चे काम के लिए पत्रक]

[SPACE FOR ROUGH WORK / कच्चे काम के लिए पत्रक]

B-1

1. Language Test (भाषा परीक्षण) : Hindi or English (हिन्दी अथवा अंग्रेजी)

2. General Knowledge and Reasoning (सामान्य ज्ञान तथा तार्किकता)

3. Teaching Aptitude (शिक्षण अभिक्षमता)

Time : 2.00 hrs.]

[Maximum Marks : 150

DO NOT OPEN THIS TEST BOOKLET UNTIL YOU ARE ASKED TO DO SO

INSTRUCTIONS FOR CANDIDATES

1. This Question paper contains 150 questions. Question No. 1 to 50 are related with language test in Hindi or English. The candidate is required to attempt either HINDI or ENGLISH language questions. Question No. 51 to 100 are related with General Knowledge and Reasoning, while Question No. 101 to 150 are related with Teaching Aptitude. Question No. 51 to 150 are compulsory for all candidates. Each question carries one mark.
2. Answer sheet is completely O.M.R. based, which will be processed by Computer Scanner. Invalidation of Answer Sheet due to incomplete/incorrect filling will be the sole responsibility of the candidate.
3. You have to write and fill your Roll. No. (in English Numerals), Paper code your subject group (art, science or commerce), Question booklet code and Signature very carefully and clearly; otherwise computer scanner will not evaluate the O.M.R. answer sheet correctly. The candidate will be fully responsible for any discrepancy or mistake in O.M.R. Answer Sheet.
4. Use only **BLUE OR BLACK BALL POINT PEN** for marking your answer on answer sheet. No second Question Paper or Answer Sheet will be given to a candidate under any circumstances.
5. Hand over two copies of answer sheets to the invigilator before leaving the examination hall, failing which your candidature will be cancelled.
6. O.M.R. sheet which you will be provided separately is carbonless and is in three foils. You should detach the third copy and take with you for matching of answers with the key which will be published/uploaded on its website by the university. The first foil of the answer sheet will be scanned and the second copy shall be kept in the university for records.
7. While answering a question choose the correct alternative from the four choices given in the question and fill completely the same in corresponding circle in the O.M.R. answer sheet.
8. While marking your answer, darken the circle as shown in the following example.



9. Change of answer is not permitted. If **more than** one answer is attempted in any question your answer will be treated as incorrect. Only one answer is to be marked for **each** question.

निर्देशों के हिन्दी रूपान्तरण के लिए कृपया प्रथम पृष्ठ देखें